

Rochambeau 2018. Enseignement spécifique. Corrigé

EXERCICE 1

Partie A - Démonstration préliminaire

1) La fonction G est dérivable sur $[0, +\infty[$ en tant que produit de fonctions dérivables sur $[0, +\infty[$ et pour $t \geq 0$,

$$G'(t) = (-1)e^{-0,2t} - (-t - 5)(-0,2)e^{-0,2t} = (0,2t + 1 - 1)e^{-0,2t} = 0,2te^{-0,2t} = g(t).$$

Donc, la fonction G est une primitive de la fonction g sur $[0, +\infty[$.

2) Soit $x > 0$.

$$\int_0^x 0,2te^{-0,2t} dt = [(-t - 5)e^{-0,2t}]_0^x = ((-x - 5)e^{-0,2x}) - (-5e^0) = 5 - xe^{-0,2x} - 5e^{-0,2x}.$$

Ensuite, $\lim_{x \rightarrow +\infty} e^{-0,2x} = \lim_{x \rightarrow +\infty} e^X = 0$. D'autre part, pour $x > 0$,

$$xe^{-0,2x} = \frac{x}{e^{0,2x}} = \frac{1}{0,2} \frac{0,2x}{e^{0,2x}} = 5 \times \frac{1}{e^{0,2x}/(0,2x)}.$$

Or, $\lim_{x \rightarrow +\infty} \frac{e^{0,2x}}{0,2x} = \lim_{x \rightarrow +\infty} \frac{e^X}{X} = +\infty$ d'après un théorème de croissances comparées et donc $\lim_{x \rightarrow +\infty} 5 \times \frac{1}{e^{0,2x}/(0,2x)} = 5 \times 0 = 0$. Finalement

$$E(X) = \lim_{x \rightarrow +\infty} \int_0^x 0,2te^{-0,2t} dt = 5 - 0 - 5 \times 0 = 5.$$

Partie B - Etude de la durée de présence d'un client dans le supermarché

1) $P(T < 10) = P(T \leq 10) = P(T - 40 \leq -30) = P\left(\frac{T - 40}{\sigma} \leq -\frac{30}{\sigma}\right)$ où cette fois-ci la variable $\frac{T - 40}{\sigma}$ suit la loi normale centrée réduite. L'énoncé donne $P\left(\frac{T - 40}{\sigma} \leq -\frac{30}{\sigma}\right) = 0,067$. La calculatrice fournit alors $-\frac{30}{\sigma} = -1,5$ à 10^{-2} près puis $\sigma = 20$ à 10^{-1} près et en particulier, $\sigma = 20$ min à la seconde près (une seconde étant un soixantième de minute et un soixantième de minute étant plus grand qu'un centième de minute).

2) La probabilité demandée est $P(T \geq 60) = 1 - P(T < 60) = 1 - P(T \leq 60)$. La calculatrice fournit

$$P(T \geq 60) = 0,159 \text{ arrondi à } 10^{-3}.$$

Partie C - Durée d'attente pour le paiement

1) a) La durée moyenne d'attente, exprimée en minutes, est l'espérance déterminée dans la partie A. Cette durée moyenne d'attente est de 5 minutes.

b) Notons T_1 la variable aléatoire égale au temps d'attente exprimé en minutes. Soit t un réel positif.

$$P(T_1 \leq t) = \int_0^t 0,2e^{-0,2x} dx = [-e^{-0,2x}]_0^t = (-e^{-0,2t}) - (-e^0) = 1 - e^{-0,2t},$$

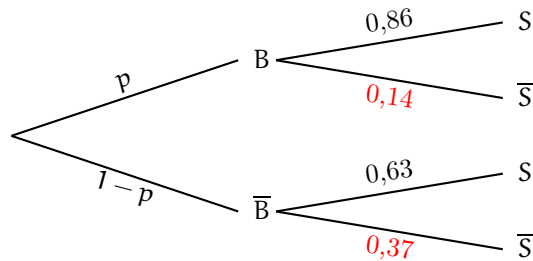
puis

$$P(T_1 \geq t) = P(T_1 > t) = 1 - P(T_1 \leq t) = 1 - (1 - e^{-0,2t}) = e^{-0,2t}.$$

La probabilité demandée est

$$P(T_1 \geq 10) = e^{-0,2 \times 10} = e^{-2} = 0,135 \text{ arrondi à } 10^{-3}.$$

2) Notons p la proportion de clients à déterminer ou encore posons $p = P(B)$. Représentons la situation par un arbre de probabilités.



D'après la formule des probabilités totales,

$$P(S) = P(B) \times P_B(S) + P(\bar{B}) \times P_{\bar{B}}(S) = p \times 0,86 + (1 - p) \times 0,63 = 0,23p + 0,63.$$

Par suite,

$$P(S) \geq 0,75 \Leftrightarrow 0,23p + 0,63 \geq 0,75 \Leftrightarrow p \geq \frac{0,12}{0,23} \Leftrightarrow p \geq \frac{12}{23}.$$

La proportion minimale de clients qui doivent choisir une borne automatique est $\frac{12}{23}$ soit environ 52,2%.

Partie D - Bons d'achat

1) Le client obtient 15 cartes.

Soit X la variable aléatoire égale au nombre de cartes gagnantes obtenues par le client. 15 expériences identiques sont effectuées à savoir tirer 15 fois une carte. Puisque le tirage est assimilé à un tirage avec remise, les 15 expériences sont indépendantes. Chaque expérience a deux issues à savoir « la carte tirée est gagnante » avec une probabilité $p = 0,005$ et « la carte tirée n'est pas gagnante » avec une probabilité $1 - p = 0,995$.

La variable X suit donc une loi binomiale de paramètres $n = 15$ et $p = 0,005$. La probabilité demandée est $P(X \geq 1)$.

$$P(X \geq 1) = 1 - P(X = 0) = 1 - \binom{15}{0} (0,005)^0 (0,995)^{15} = 1 - (0,995)^{15} = 0,07 \text{ arrondi à } 10^{-2}.$$

2) On reprend les notations de la question précédente où cette fois-ci n est un entier naturel non nul quelconque.

$$\begin{aligned} P(X \geq 1) \geq 0,5 &\Leftrightarrow 1 - 0,995^n \geq 0,5 \Leftrightarrow 0,995^n \leq 0,5 \\ &\Leftrightarrow \ln(0,995^n) \leq \ln(0,5) \text{ (par stricte croissance de la fonction } \ln \text{ sur }]0, +\infty[) \\ &\Leftrightarrow n \ln(0,995) \leq \ln(0,5) \Leftrightarrow n \geq \frac{\ln(0,5)}{\ln(0,995)} \text{ (car } \ln(0,995) < 0) \\ &\Leftrightarrow n \geq 138,2\dots \\ &\Leftrightarrow n \geq 139 \text{ (car } n \text{ est un entier.)} \end{aligned}$$

On obtient 139 cartes pour un montant d'achat de 1390 euros. A partir de 1390 euros d'achat, on a au moins une chance sur deux d'obtenir une carte gagnante.

EXERCICE 2

1) Etudions les variations de la fonction f sur $[0, 1[$. Pour $x \in [0, 1[$,

$$f'(x) > 0 \Leftrightarrow \frac{-bx + b - 2}{1 - x} > 0 \Leftrightarrow -bx + b - 2 > 0 \Leftrightarrow x < \frac{b - 2}{b} \Leftrightarrow x < 1 - \frac{2}{b},$$

et de même, $f'(x) < 0 \Leftrightarrow x > 1 - \frac{2}{b}$ et $f'(x) = 0 \Leftrightarrow x = 1 - \frac{2}{b}$.

De plus,

$$b \geq 2 \Rightarrow 0 < \frac{2}{b} \leq 1 \Rightarrow -1 \leq -\frac{2}{b} < 0 \Rightarrow 0 \leq 1 - \frac{2}{b} < 1.$$

Si $b > 2$, la fonction f est strictement croissante sur $\left[0, 1 - \frac{2}{b}\right]$ et strictement décroissante sur $\left[1 - \frac{2}{b}, 1\right]$ et si $b = 2$, $1 - \frac{2}{b} = 0$ et f est strictement décroissante sur $[0, 1[$.

Dans tous les cas, le maximum de f est

$$f\left(1 - \frac{2}{b}\right) = b\left(1 - \frac{2}{b}\right) + 2\ln\left(1 - \left(1 - \frac{2}{b}\right)\right) = b - 2 + 2\ln\left(\frac{2}{b}\right).$$

2) Il n'est pas envisageable de résoudre de manière exacte l'inéquation $b - 2 + 2\ln\left(\frac{2}{b}\right) \leq 1,6$.

Pour $x \in [2, +\infty[$, posons $g(x) = x - 2 + 2\ln\left(\frac{2}{x}\right) = x - 2 + 2\ln 2 - 2\ln x$. La fonction g est dérivable sur $[2, +\infty[$ et pour $x \geq 2$,

$$g'(x) = 1 - \frac{2}{x} = \frac{x - 2}{x}.$$

La fonction g' est strictement positive sur $]2, +\infty[$ et donc la fonction g est strictement croissante sur $[2, +\infty[$. Puisque de plus, g est continue sur $[2, +\infty[$, que $g(2) = 0$ et que $g(10) = 4,7\dots > 1,6$, un corollaire du théorème des valeurs intermédiaires montre que g prend une fois et une seule la valeur $1,6$ en un certain x_0 de $[2, +\infty[$.

La calculatrice fournit $g(5,69) = 1,59\dots < 1,6$ et $g(5,7) = 1,605\dots > 1,6$. Puisque g est strictement croissante sur $[2, +\infty[$, on en déduit que $5,69 < x_0 < 5,7$. L'ensemble des valeurs de b pour lesquelles la hauteur maximale du projectile ne dépasse pas $1,6$ mètre est $[2, x_0]$ où $x_0 = 5,69$ à 10^{-2} près.

3) Le coefficient directeur de la tangente à la trajectoire en son point d'abscisse 0 est

$$f'(0) = \frac{-5,69 \times 0 + 5,69 - 2}{1 - 0} = 3,69.$$

Par suite, $\tan(\theta) = 3,69$ puis $\theta = 74,8^\circ$ au dixième de degré près.

EXERCICE 3

1) a) La droite (AB) est la droite passant par le point A de coordonnées (0, 0, 0) et de vecteur directeur $\vec{u} = \frac{1}{2}\overrightarrow{AB}$ de coordonnées (5, -4, 1). Un système d'équations paramétriques de la droite (AB) est

$$\begin{cases} x = 5t \\ y = -4t \\ z = t \end{cases}, t \in \mathbb{R}.$$

La droite (CD) est la droite passant par le point C de coordonnées (-1, -8, 5) et de vecteur directeur $\vec{v} = \frac{1}{3}\overrightarrow{CD}$ de coordonnées (5, 4, 1). Un système d'équations paramétriques de la droite (AB) est

$$\begin{cases} x = -1 + 5t' \\ y = -8 + 4t' \\ z = 5 + t' \end{cases}, t' \in \mathbb{R}.$$

b) Les vecteurs \vec{u} et \vec{v} ne sont pas colinéaires car s'il existe un réel k tel que $\vec{v} = k\vec{u}$, alors $5 = 5k$ et donc $k = 1$ et aussi $4 = -4k$ et donc $k = -1$, ce qui est impossible. Donc, les droites (AB) et (CD) sont sécantes ou non coplanaires. Vérifions que ces deux droites ne sont pas sécantes.

Soient $M(5t, -4t, t)$, $t \in \mathbb{R}$, un point de (AB) et $M'(-1 + 5t', -8 + 4t', 5 + t')$, $t' \in \mathbb{R}$, un point de (CD).

$$M = M' \Leftrightarrow \begin{cases} 5t = -1 + 5t' \\ -4t = -8 + 4t' \\ t = 5 + t' \end{cases} \Leftrightarrow \begin{cases} t' = t - 5 \\ 5t = -1 + 5(t - 5) \\ -4t = -8 + 4(t - 5) \end{cases} \Leftrightarrow \begin{cases} t' = t - 5 \\ 0 \times t = -26 \\ \dots \end{cases}.$$

Le système précédent n'a pas de solution et donc les droites (AB) et (CD) n'ont pas de point commun. On en déduit que les droites (AB) et (CD) sont non coplanaires.

2) a) Soit $M(5t, -4t, t)$, $t \in \mathbb{R}$, un point de la droite (AB). $x_M = 5 \Leftrightarrow 5t = 5 \Leftrightarrow t = 1$. Le point I a donc pour coordonnées (5, -4, 1).

Soit $M'(-1 + 5t', -8 + 4t', 5 + t')$, $t' \in \mathbb{R}$, un point de la droite (CD). $x_{M'} = 4 \Leftrightarrow -1 + 5t' = 4 \Leftrightarrow t' = 1$. Le point J a donc pour coordonnées (4, -4, 6). Par suite,

$$IJ = \sqrt{(4-5)^2 + (-4+4)^2 + (6-1)^2} = \sqrt{26}.$$

b) Le vecteur \overrightarrow{IJ} a pour coordonnées (-1, 0, 5).

$$\overrightarrow{IJ} \cdot \vec{u} = (-1) \times 5 + 0 \times (-4) + 5 \times 1 = 0$$

Donc, la droite (IJ) est orthogonale à la droite (AB) puis la droite (IJ) est perpendiculaire à la droite (AB) car les droites (AB) et (IJ) ont le point I en commun.

$$\overrightarrow{IJ} \cdot \vec{v} = (-1) \times 5 + 0 \times 4 + 5 \times 1 = 0.$$

Donc, la droite (IJ) est orthogonale à la droite (CD) puis la droite (IJ) est perpendiculaire à la droite (CD) car les droites (CD) et (IJ) ont le point J en commun.

Finalement, la droite (IJ) est perpendiculaire aux droites (AB) et (CD).

3) a) Puisque le point M' est sur la droite (CD) et n'est pas le point I, le point M' n'appartient pas à la droite (IJ) (le seul point commun entre la droite (IJ) et la droite (CD) étant le point I). Les points I, J et M' définissent donc un unique plan.

Puisque les droites (CD) et Δ sont parallèles, les droites (CD) et Δ sont coplanaires : ces droites sont contenues dans le plan (IJM').

Dans ce plan, la droite (IJ) est sécante à la droite Δ en I et donc la parallèle à (IJ) passant par M' est sécante à la droite Δ en un point noté P.

b) Pour les mêmes raisons que ci-dessus, les points P et M sont distincts et tous deux distincts de I. Les points P, M et I définissent un unique plan.

La droite (M'P) est parallèle à la droite (IJ) et la droite (IJ) est perpendiculaire à la droite Δ . Donc, la droite (M'P) est orthogonale à la droite Δ . D'autre part, la droite (M'P) est parallèle à la droite (IJ) et la droite (IJ) est perpendiculaire à la droite (AB). Donc la droite (M'P) est orthogonale à la droite (AB).

Ainsi, la droite (M'P) est orthogonale aux droites Δ et (AB) qui sont deux droites sécantes du plan (IMP). On en déduit que la droite (M'P) est perpendiculaire au plan (IMP). Mais alors, la droite (M'P) est orthogonale à toute droite du plan (IMP) et en particulier, la droite (M'P) est perpendiculaire à la droite (MP). On a montré que le triangle IMP est rectangle en P.

c) Les droites (JM') et (IP) sont parallèles et les droites (JI) et $(M'P)$ sont parallèles. Le quadrilatère $M'JIP$ est donc un parallélogramme puis $M'P = JI$. D'après le théorème de PYTHAGORE,

$$MM' = \sqrt{M'P^2 + PM^2} \geq \sqrt{M'P^2} = M'P = IJ.$$

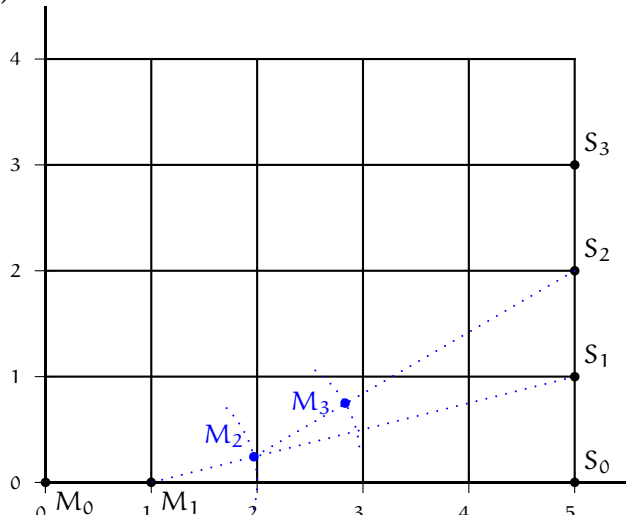
Ainsi, si M et M' sont des points de (AB) et (CD) respectivement, avec $M \neq I$ et $M' \neq J$, alors $MM' > IJ$. De manière analogue, si $M = I$ et $M' \neq J$, $MM' > IJ$ et si $M \neq I$ et $M' = J$, $MM' > IJ$.

IJ est la plus courte distance entre un point de la droite (AB) et un point de la droite (CD) .

EXERCICE 4.

Partie A - Modélisation à l'aide d'une suite

1) Construction.



2) $d_0 = S_0M_0 = \sqrt{(5-0)^2 + (0-0)^2} = 5$ et $d_1 = \sqrt{(5-1)^2 + (1-0)^2} = \sqrt{17}$.

3) Il existe un réel strictement positif (car le chien va vers le scooter) λ tel que $\overrightarrow{M_1M_2} = \lambda \overrightarrow{M_1S_1}$. Puisque $\lambda > 0$, on a $M_1M_2 = \lambda M_1S_1$ et donc, d'après la question précédente,

$$\lambda = \frac{M_1M_2}{M_1S_1} = \frac{1}{\sqrt{17}}.$$

Ainsi, si on note (x, y) les coordonnées de M_2 , on a $\begin{cases} x-1 = \frac{1}{\sqrt{17}}(5-1) \\ y-0 = \frac{1}{\sqrt{17}}(1-0) \end{cases}$ et donc $x = 1 + \frac{4}{\sqrt{17}}$ et $y = \frac{1}{\sqrt{17}}$. Le

point M_2 a pour coordonnées $\left(1 + \frac{4}{\sqrt{17}}, \frac{1}{\sqrt{17}}\right)$.

4) a) Dans la cellule C5, on doit écrire

$$=C4+(A4-CA)/F4$$

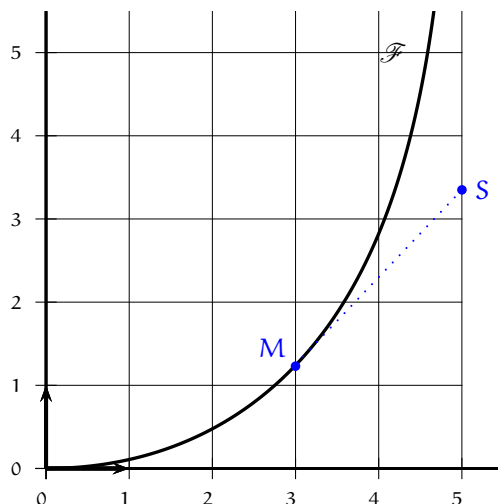
et dans la case F5, on doit écrire

$$=\text{sqrt}((D4-B4)^2+(E4-C4)^2).$$

b) La suite $(d_n)_{n \in \mathbb{N}}$ est décroissante et minorée par 0. Donc, la suite $(d_n)_{n \in \mathbb{N}}$ converge vers un certain réel ℓ positif ou nul. D'après les données du tableau, il semble que $\ell \approx 2,77$.

Partie B - Modélisation à l'aide d'une fonction

1) a) Construction.



Le point S admet environ pour coordonnées (5; 3, 3).

b) Une équation de la tangente (T) à la courbe \mathcal{F} en son point M d'abscisse 3 et $y = f(3) + f'(3)(x - 3)$.

$f(3) = -2,5 \ln(0,4) - 1,05$ et $f'(3) = \frac{3 \times 0,7}{2} = 1,05$. Une équation de (T) est donc $y = -2,5 \ln(0,4) - 1,05 + 1,05(x - 3)$.
on en déduit que

$$y_S = -2,5 \ln(0,4) - 1,05 + 1,05(5 - 3) = -2,5 \ln(0,4) + 1,05 = 3,34 \text{ arrondi au centième.}$$

2) Quand t, le temps qui passe, tend vers $+\infty$, x tend vers 5 et donc d(x) tend vers $0,1 \times 5^2 - 5 + 5 = 2,5$.